

SAYACI

Mükemmelsin

◆ Soruyu yeşil alan üzerindeki sürede çözebiliyorsan **Mükemmelsin**.

İyisin

◆ Soruyu mavi alan üzerindeki sürede çözebiliyorsan **İyisin**. Mükemmeli yakalamak için günlük soru çözme sayısını artırmalısın.

Video İzlemelisin

◆ Soruyu mavi alandan daha yüksek bir sürede çözebiliyorsan eksiklerini ve soru çözme tekniklerini geliştirip **Video Çözümlerini** izlemelisin.

Sınavlarda öğrencilerin en büyük problemi **“Zaman ayarlaması”** olmaya başlamıştır. Soruların çözümlerinin bilinmesine karşın zamanını iyi ayarlayamayan öğrenciler yapabilecekleri soruları da kaçırmaktadırlar. Bu kapsamda öğrencilerimizin sınavda daha **başarılı** olmaları adına her sorunun yapısına ve düzeyine göre bir zaman **sayacı** yerleştirdik.

Sayaç sürelerini belirlerken öğretmen çözüm süresi ve öğrenci çözüm süresi dikkate alınarak belirlenmiştir. Tespit edilen çözüm sürelerini her sorunun başında yer alan soru çözüm sayacının içine yazdık.

Soru Sayacı ile öğrencilerin zamanı kontrol etmesini düzenleyerek başarılarına katkıda bulunmayı amaçladık.



Copyright ©

**Evrensel İletişim Yayın Dağıtım
San. Tic. Ltd. Şti.**

Bu kitabın her hakkı
EVRENSEL İLETİŞİM LTD. ŞTİ.'e aittir.

Hangi amaçla olursa olsun, bu kitabın tamamının ya da bir kısmının, kitabı yayınlayan yayınevinin önceden izni olmaksızın elektronik, mekanik, fotokopi ya da herhangi bir kayıt sistemi ile çoğaltılması, yayınlanması ve depolanması yasaktır.

Genel Yayın Yönetmeni
Engin KARAPINAR

Dizgi - Kapak - Tasarım
Mustafa ÖZKAN

Basım Yeri
Korza Basım

ISBN
978 - 605 - 7958 - 66 - 2

**EVRENSEL
İLETİŞİM
YAYINLARI**

EVRENSEL İLETİŞİM YAYINLARI

Zübeyde Hanım Mah. 655. Cad. No.: 15/A
Altındağ / ANKARA

Tel: (0312) **384 65 00** Faks: (0312) **384 61 00**

email: evrensel@evrenseliletisim.com.tr

www.evrenseliletisim.com.tr

**LGS
1. OTURUM**

**SAYAÇ
20'Lİ DENEME**

**T.C.
İnkılap Tarihi ve Atatürkçülük**

LGS

1. OTURUM

T.C. İnkılap Tarihi ve Atatürkçülük

1.

Deneme

EVRENSEL
İLETİŞİM
YAYINLARI



MÜKEMMELSİN

72 saniye

İYİSİN

108 saniye

VIDEO İZLEMELİSİN

1.

Fransa'da toplum; soylular, rahipler ve halk şeklinde sosyal sınıflardan oluşmuştur. Tüm sosyal sınıfların üzerinde kral ve hanedan üyeleri yer almıştır. Üretime en çok katkı sağlayan halk ve burjuva, ülke gelirinden yeterli pay alamazken en çok vergi veren kesim olmuştur.

Buna göre;

- I. Fransa'da sınıf ayrımı vardır.
- II. Kral ve hanedan yönetimde mutlak otorite sahibidir.
- III. Fransa, demokratik sistemle yönetilmektedir.

durumlarından hangileri söylenebilir?

- A) Yalnız I. B) Yalnız II. C) I ve II. D) II ve III.



MÜKEMMELSİN

80 saniye

İYİSİN

120 saniye

VIDEO İZLEMELİSİN

2.

I ve II. Balkan savaşlarından sonra Osmanlı Devleti'nin imzaladığı antlaşmalar sonucunda;

- Balkanlardan Anadolu'ya Türk göçleri yaşanmıştır. Bu durum Anadolu'da Türkçülük düşüncesini kuvvetlendirmiştir.
- Batı Trakya Türkleri azınlık statüsü kazanmıştır.

Bu bilgiler dikkate alındığında;

- I. Batı Trakya Türklerinin hakları korunmaya çalışılmıştır.
- II. Anadolu'da milliyetçilik fikri yaygınlaşmıştır.
- III. Osmanlı Devleti toprak kaybetmiştir.

yargılarından hangilerine ulaşılabilir?

- A) Yalnız I. B) I ve II. C) II ve III. D) I, II ve III.



MÜKEMMELSİN

74 saniye

İYİSİN

111 saniye

VIDEO İZLEMELİSİN

3.

Osmanlı Devleti'nde XIX. yüzyılda isyanların çıkmasında;

- Milliyetçilik akımının etkisinin Osmanlı ülkesinde yaşayan azınlıklar arasında yaygınlaşması,
- Avrupalı devletlerin Osmanlı azınlıklarını kışkırtmaları,
- Siyasi açıdan yanlış politikaların izlenmesi etkili olmuştur.

Buna göre aşağıdaki durumlardan hangisi söylenemez?

- A) Merkezî otorite bozulmuştur.
- B) Devletler arası çıkar çatışması vardır.
- C) Milliyetçilik akımından en az etkilenen Osmanlı Devleti'dir.
- D) Osmanlı Devleti, çok uluslu yapıya sahiptir.

4. Tanzimat Fermanı ile;
- Hukukun üstünlüğü ve eşitliği ilkesi benimsenmiştir.
 - Din, dil ve ırk ayrımı reddedilmiştir.
 - Mülkiyet hakkı güvence altına alınmıştır.

Buna göre aşağıdakilerden hangisi söylenemez?

- A) Cumhuriyet rejimine geçiş yapılmıştır.
 B) Özel mülkiyet kavramına önem verilmiştir.
 C) Halkın hukuka olan güveni arttırılmaya çalışılmıştır.
 D) Kişi hakları korunmak istenmiştir.

5. Trablusgarp Savaşı sonrası imzalanan Uşi Antlaşması'na göre;
- İtalya, Oniki Ada ve Rodos Adası'nın yönetimini geçici olarak elinde bulunduracaktır.
 - Trablusgarp'a bir kadı atanacak ve halk dinî yönden halifeye bağlı olacaktır.
 - Osmanlı, ticari alanda İtalya'ya tam bir serbestlik tanıyacaktır.
- maddeleri yer almaktadır.

Bu maddelerden hangileri İtalya'nın Osmanlı Devleti'nden daha fazla ekonomik kazanç elde etmeye çalıştığıнын göstergesidir?

- A) Yalnız I. B) Yalnız III. C) I ve II. D) II ve III.

6. Mustafa Kemal, Selânik'te iken İttihat ve Terakki Cemiyetine üye olmuştur. Bu cemiyetin kongresinde yaptığı konuşmada "Ordu ile cemiyeti ayıralım. Cemiyet siyasi bir parti hâlinde milletle bütünleşsin, ordu yurt savunmasında kalsın." demiştir.

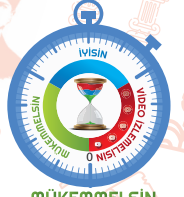
Buna göre Mustafa Kemal'in karşı olduğu durum aşağıdakilerden hangisidir?

- A) Siyasi partilerin kurulması
 B) Ordunun siyasetle uğraşması
 C) Millî Mücadele'nin iş birliği ile yürütülmesi
 D) Millî egemenlik ilkesinin benimsenmesi

7. Mustafa Kemal yaşantısı ve düşünceleri ile büyük bir devlet adamı olduğunu tüm dünyaya ispat etmiştir. Tarih bilimine çok değer verir, çok okur ve dersler çıkarırdı.
- "Yolunda yürüyen bir yolcunun, ufku görmesi yeterli değildir. Muhakkak ufkun ötesini de görmesi lazımdır." diyerek geleceğe bakış açısını göstermiştir.

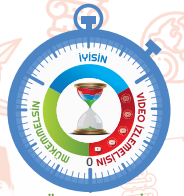
Bu bilgede Mustafa Kemal'in aşağıdaki kişisel özelliklerinden hangisi vurgulanmıştır?

- A) İdealistliği B) Vatanseverliği C) İleri görüşlülüğü D) Çok yönlülüğü



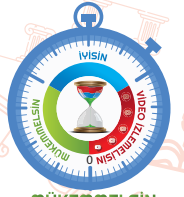
MÜKEMMELSİN
78 saniye

İVİSİN
117 saniye



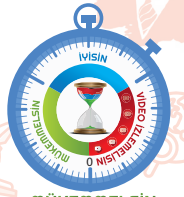
MÜKEMMELSİN
65 saniye

İVİSİN
102 saniye



MÜKEMMELSİN
59 saniye

İVİSİN
89 saniye



MÜKEMMELSİN
60 saniye

İVİSİN
90 saniye





MÜKEMMELSİN

96 saniye

İVİSİN

144 saniye

VIDEO İZLEMELİSİN



8.

I. Balkan Savaşı sonunda Osmanlı Devleti'nden büyük çapta toprak kazanan Balkan devletleri aralarında anlaşmazlığa düştüler. Bulgaristan'ın fazla toprak alarak diğer Balkan devletlerine cephe alması başta Yunanistan olmak üzere diğer devletlerin de tepkisini çekmiştir. Aralarındaki anlaşmazlık bir müddet sonra savaşa dönüşmüş, bu durumu fırsat bilen Osmanlı Devleti I. Balkan Savaşı'nda kaybettiği Edirne ve Kırklareli'ni geri almıştır.

Bu duruma göre aşağıdaki yargılardan hangisine ulaşamaz?

- A) I. Balkan Savaşı'nı Osmanlı Devleti kaybetmiştir.
- B) Balkan Devletleri arasında kalıcı barış sağlanamamıştır.
- C) I. Balkan Savaşı'ndan en kârlı çıkan devlet Yunanistan'dır.
- D) Osmanlı Devleti kaybettiği toprakların bir kısmını geri almıştır.



MÜKEMMELSİN

69 saniye

İVİSİN

103 saniye

VIDEO İZLEMELİSİN



9.

Mustafa Kemal, her konu üzerinde gerektiği kadar düşünür, her konuyu en ince noktasına kadar araştırır ve karar verirdi. Çok karışık konular ve sorunlar için doğru çözüm yolları bulurdu. Karşılaştığı sorunların hepsine birden el atmayıp bunları öncelik sırasına koyardı. O, Millî Mücadele Dönemi'nde izlenecek yol ve yöntemleri önceden düşünmüştü.



Bu bilgiye göre Mustafa Kemal hakkında aşağıdakilerden hangisi söylenebilir?

- A) Planlı ve programlıdır.
- B) Çok yönlüdür.
- C) Teşkilatçıdır.
- D) İleri görüşlüdür.

10.

- Fransız İhtilali'ne zemin hazırlayan Fransız düşünürlerden Montesquie'u ve J. Jack Rousseau'nun eserlerini okuması
- Büyük Nutuk'ta "Cihan Tarihinin Ana Hatları" adlı esere eleştiriler yapması

Bu durum Mustafa Kemal'le ilgili olarak;

- I. Yabancı düşünürleri takip ettiği,
- II. Tarih bilimine ilgi duyduğu,
- III. Birleştirici ve bütünleştirici bir lider olduğu

yargılarından hangilerine ulaşılabilir?

- A) Yalnız I.
- B) Yalnız II.
- C) Yalnız III.
- D) I ve II.

LGS

1. OTURUM

T.C. İnkılap Tarihi ve Atatürkçülük

2.

Deneme

EVRENSEL
İLETİŞİM
YAYINLARI



MÜKEMMELSİN

62 saniye

İYİSİN

93 saniye

VIDEO İZLEMELİSİN

1. Mustafa Kemal Atatürk'ün liderliğinde gerçekleşen Türk milletinin bağımsızlık mücadelesi esir milletler için bir kurtuluş ve umut kaynağı olmuştur.

Bu durum Mustafa Kemal Atatürk'ün kişisel özelliklerinden hangisi ile daha çok açıklanabilir?

- A) Mantıklı ve gerçekçi oluşuyla
B) Yaratıcı düşüncesiyle
C) İnkılapçılığıyla
D) Evrensel liderliğiyle



MÜKEMMELSİN

70 saniye

İYİSİN

105 saniye

VIDEO İZLEMELİSİN

2. Mustafa Kemal'in düşünce dünyasında yerli ve yabancı bazı aydınlar etkili olmuştur. O farklı fikirlerden faydalanarak sanattan eğitime, hukuktan kültüre, askerlikten tarihe kadar değişik alanlarda fikirler üreterek devletin muasır medeniyetler seviyesinin üstüne çıkması için çalışmıştır.

Bu bilgidен Mustafa Kemal'in kişisel özelliklerinden hangisi öncelikle çıkarılabilir?

- A) Teşkilatçı oluşu
B) Vatan sevgisi
C) Çok yönlü oluşu
D) Mantıklı ve gerçekçi oluşu



MÜKEMMELSİN

105 saniye

İYİSİN

157saniye

VIDEO İZLEMELİSİN

3. **Egemenlik halk oyunun yürütülmesinden başka bir şey olmadığı için hiçbir zaman başkasına devredilemez. İktidar başkasına geçebilir ama irade geçmez.**
- Yalnız genel irade devletin güçlerini herkesin iyiliğine uygun olarak yönetilebilir.**

J. Jack Rousseau 1712-1778

- Kayıtsız şartsız egemenliğin bir zerre-sini ne olursa olsun hiçbir makama vermemek, verdirmemek gerekir.**
- Her kuvvet ancak milletin irade ve emeline uymak sureti ile yaşayabilir.**

M. Kemal Atatürk (1881-1938)

Her iki tablodaki bilgiler karşılaştırıldığında, Mustafa Kemal ile ilgili aşağıdakilerden hangisi söylenebilir?

- A) Yalnız yabancı düşünürlerin fikirlerine önem vermiştir.
B) Devletin üstün iradesinin önemli olduğunu vurgulamıştır.
C) J. Jack Rousseau'nun fikirlerinden etkilenmiştir.
D) Din ve devlet işlerinin ayrılmasının önemine vurgu yapmıştır.

4.



17. ve 18. yüzyıl Osmanlı toprakları



20. yüzyıl başlarında Osmanlı toprakları ve Balkanlar

1789 yılında gerçekleşen Fransız İhtilali milliyetçilik kavramını siyasileştirmiş, çok uluslu imparatorluklar ve devletler ihtilalin akımlarından olumsuz etkilenerek sınırlarında daralmalar yaşamıştır.

Her iki harita karşılaştırıldığında Fransız İhtilali'nin Osmanlı Devleti'ne etkileri hakkında;

- I. Osmanlı Devleti toprak kaybına uğramıştır.
- II. Balkan uluslarında bağımsızlıklarını ilan edenler vardır.
- III. Osmanlı Devleti'nin siyasi gücü ve otoritesi artmıştır.

yargılarından hangileri söylenebilir?

- A) Yalnız I. B) I ve II. C) II ve III. D) I, II ve III.

MÜKEMMELSİN
101 saniye

İYİSİN
151 saniye

VİDEO İZLEMELİSİN

0 NİSAN 2021

9



MÜKEMMELSİN

67 saniye

İVİSİN

101 saniye

VIDEO İZLEMELİSİN

5.



Mustafa Kemal'i fikri yönden önemli derecede etkileyen Ziya Gökalp'e ait bu sözler dikkate alındığında, Ziya Gökalp ile ilgili aşağıdaki yargılardan hangisi söylenebilir?

- A) İslami fikirlerin önemine vurgu yapılmıştır.
- B) Ümmetçi bir anlayışa sahiptir.
- C) Batı'nın örnek alınmasını istemektedir.
- D) Milleti oluşturan unsurlara değinmiştir.

6.

İlk Osmanlı – Ermeni ilişkileri 1324 yılında Orhan Gazi Dönemi'nde başlamış, Fatih Sultan Mehmet Dönemi'nde Bizans'ın ortadan kaldırılması ile Ortodoks baskısından kurtulan Ermeniler için İstanbul'da Ermeni Patrikhanesi kurulmuştur. Osmanlı Devleti'nde azınlık bir halk olarak yaşayan Ermeniler, 1862 tarihinde kabul edilen "Ermeni Milleti Nizamnamesi" ile çok geniş siyasi, iktisadi ve dinî haklar elde etmişlerdir.

Buna göre;

- I. Osmanlı – Ermeni ilişkileri eski bir tarihe dayanmaktadır.
- II. Osmanlı Devleti'nde Ermenilere oldukça geniş haklar tanınmıştır.
- III. Ermenilere karşı baskı ve şiddet politikası uygulanmıştır.

yargılarından hangilerine ulaşılabilir?

- A) Yalnız I.
- B) Yalnız III.
- C) I ve II.
- D) I, II ve III.



MÜKEMMELSİN

79 saniye

İVİSİN

119 saniye

VIDEO İZLEMELİSİN

7.

I. Durum: Mondros Ateşkes Antlaşması'na göre "Boğazlar uluslararası ticarete açık olacak, iç bölgelerde bulunan kaleler İtilaf Devletlerince işgal edilecektir.

II. Durum: Bolşevik İhtilali sonrası kurulan Sovyet Rusya hükûmeti "Türk boğazları ile ilgili sorunları görüşmek üzere Karadeniz'e kıyısı olan devletlerin katılacağı bir konferans düzenlenmesini" istemiştir.

Bu iki durum karşılaştırıldığında;

- I. Boğazlarla ilgili sorunlar devam etmektedir.
- II. İtilaf Devletleri boğazlardan çekilmiştir.
- III. Boğazlarda Türk hâkimiyeti kesin olarak sağlanmıştır.

yargılarından hangilerine ulaşılabilir?

- A) Yalnız I. B) Yalnız II. C) I ve II. D) I ve III.

8.

Çanakkale Cephesi'nde İtilaf Devletlerinin işledikleri savaş suçlarından biri de sivillere karşı girilen taarruzlardır. Çanakkale yakınlarındaki yerleşim birimleri, yolcu ve tüccar vapurları İtilaf Devletlerince en çok vurulan sivil hedeflerdir. 10 Ağustos 1915 tarihli Başkumandan Vekili Enver Paşa imzalı belgede "Gelibolu kasabasında topa tutulan birçok kadın ve çocuğun öldüğü tespit edilmiştir." yazmaktadır.

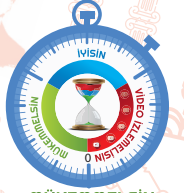


Bu parçaya göre;

- I. İtilaf Devletlerinin askerî amaçlı olmayan faaliyetleri vardır.
- II. Çanakkale Cephesi tek başarılı olunan cephedir.
- III. Osmanlı Devleti İtilaf Devletlerinin işledikleri suçları kayıt altına almıştır.

yargılarından hangileri söylenebilir?


- A) Yalnız I. B) I ve II. C) I ve III. D) II ve III.



mÜKEMMELSİN
77 saniye

İVİSİN
115 saniye

VIDEO İZLEMELİSİN



mÜKEMMELSİN
79 saniye

İVİSİN
118 saniye

VIDEO İZLEMELİSİN





MÜKEMMELSİN

78 saniye

İYİSİN

117 saniye

VIDEO İZLEMELİSİN

VIDEO İZLEMELİSİN



MÜKEMMELSİN

63 saniye

İYİSİN

94 saniye

VIDEO İZLEMELİSİN

VIDEO İZLEMELİSİN

9. Amasya Genelgesi'nin bazı maddeleri şunlardır:

- Milletin bağımsızlığını yine milletin azim ve kararı kurtaracaktır.
- Vatanın bütünlüğü ve milletin bağımsızlığı tehlikededir.
- Anadolu'nun her bakımdan en güvenli yeri olan Sivas'ta millî bir kongre toplanacaktır.

Buna göre Amasya Genelgesi'nin özellikleri arasında aşağıdakilerden hangisi gösterilemez?

- İstiklal yolunda halka çağrı yapılmaktadır.
- Bağımsızlık için yol haritası çizilmektedir.
- Manda ve himayenin kabul edilmesi kararı alınmıştır.
- Kongre sürecinin devam edeceği belirtilmektedir.

10.



Sevr Antlaşması'na Göre Osmanlı Devleti

Verilen haritaya göre aşağıdakilerden hangisi söylenemez?

- Anadolu'nun büyük bir bölümü İtilaf Devletlerince paylaşılmıştır.
- Yunan işgali İzmir ve çevresi ile sınırlı kalmıştır.
- Doğu Anadolu Bölgesi'nde Ermenilere toprak verilmiştir.
- İtalyanlar istedikleri bölgeleri alamamışlardır.

LGS

1. OTURUM

T.C. İnkılap Tarihi ve Atatürkçülük

3.

Deneme

EVRENSEL
İLETİŞİM
YAYINLARI



MÜKEMMELSİN

53 saniye

İVİSİN

79 saniye

VIDEO İZLEMELİSİN



MÜKEMMELSİN

82 saniye

İVİSİN

123 saniye

VIDEO İZLEMELİSİN



MÜKEMMELSİN

75 saniye

İVİSİN

112 saniye

VIDEO İZLEMELİSİN

1. Mustafa Kemal;

- Namık Kemal için "Türk milletinin yüzyıllardır beklediği ses."
- Tevfik Fikret için "Hangi Türk şairi böyle inkılapçı şiirler yazmıştır." demiştir.

Buna göre Mustafa Kemal ile ilgili aşağıdaki yargılardan hangisi söylenemez?

- Fikir insanlarının sözlerine değer vermiştir.
- Döneminde aydın ve şairlerin sözlerinden etkilenmiştir.
- Farklı fikir adamlarından faydalanmıştır.
- Sadece kendi fikirlerine bağlı kalmıştır.

2.



II. Meşrutiyet Dönemi'ne ait bir kartpostal

Verilen kartpostalda Fransız Devrimi'ne ait sloganlardan olan hürriyet, adalet, eşitlik, kardeşlik ifadeleri Osmanlı Türkçesi ve Fransızca olarak yazılmıştır.

Bu bilgiye göre aşağıdaki yargılardan hangisine ulaşılabılır?

- Osmanlı Devleti ile Fransa arasında dostane ilişkiler vardır.
- Osmanlı Devleti'nde Fransız İhtilali'nin etkileri görülmektedir.
- Fransız İhtilali sadece Osmanlı Devleti'ni etkilemiştir.
- Osmanlı Devleti parçalanma sürecine girmiştir.

3.

Mondros Ateşkes Antlaşması sonrası İtilaf Devletlerinin ve azınlıkların işgal ve katliam girişimlerine karşı Trakya Paşeli, Reddi İlhak, Kilikyalılar ve benzeri yerel cemiyetler kurulmuş, işgaller karşısında Türk halkını teşkilatlandırmaya ve sesini dünyaya duyurmaya yönelik faaliyetler gerçekleştirmişlerdir.

Buna göre millî cemiyetler ile ilgili;

- Halkın işgallere karşı tepki göstermesi için çalışmışlardır.
- Faaliyetlerini bölgesel olarak yürütmüşlerdir.
- Devletler arası sorunların çözümünde rol almışlardır.

yargılarından hangilerine ulaşılabılır?

- I ve II.
- I ve III.
- II ve III.
- I, II ve III.

4.

Almanya I. Dünya Savaşı öncesinde 2 Ağustos 1914 tarihinde gizli bir ittifak sözleşmesini Osmanlı Devleti ile imzaladı. Almanya, I. Dünya Savaşı'nda Osmanlı Devleti'nin cihat ilan ederek yeni cephelerle savaş alanını genişleteceğini, Osmanlı Devleti'nin jeopolitik konumundan faydalanarak Hindistan'a giden sömürge yollarını kontrol altına alarak İngiltere'nin bölge ile olan bağlantılarını kesmeyi planlamıştır.

Bu bilgiye göre Almanya'nın Osmanlı Devleti'nden;

I. Ekonomik II. Dinî III. Askerî

alanların hangilerinden faydalanmayı amaçladığı söylenebilir?

- A) I ve II. B) II ve III. C) I ve III. D) I, II ve III.

5.

Osmanlı Devleti'nde sosyal devlet olma anlayışı I. Dünya Savaşı'nın milyonları aşan kayıpları karşısında yetimleri himaye etmeye çalışması şeklinde görülür. Darüleytam adı verilen yetimhaneler şehit düşen askerlerin çocuklarına barınma, eğitim ve gıda konularında hizmet vermiştir. Balkan Savaşları ve I. Dünya Savaşı sonrası Darüleytamlardaki öğrenci sayısı 16.000'lere ulaşmıştır.



Paragrafta verilen bilgilere göre aşağıdaki yargılardan hangisine ulaşamaz?

- A) Sosyal yardımlar savaşlarda devam etmektedir.
B) Osmanlı Devleti savaşları kaybetmiştir.
C) Yetimlere yönelik hizmetler vardır.
D) Savaşlarda birçok şehit verilmiştir.

6.

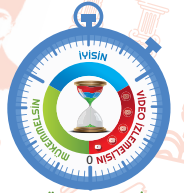
Osmanlı Devleti'nin Birinci Dünya Savaşı'ndan mağlup ayrılması ile birlikte Mondros Ateşkes Antlaşması sonrası Anadolu, İtilaf Devletlerince işgal edilmeye başlanmıştır. Ülkenin savunmasız, Osmanlı Hükûmetinin sessiz kalması üzerine Türk halkı bölgesel olarak teşkilatlanarak düşmana karşı direnişe geçmiştir. Düzensiz, milis kuvvetler olarak düşmana karşı koymaya çalışan Kuvayimillîye birlikleri birlik ve beraberliğin bozulmasına, vatanın tamamen düşman topraklarından temizlenmesinin gecikmesine neden olmuştur.



Kuvayimillîye birlikleri

Bu olumsuz durum aşağıdakilerden hangisi ile ortadan kalkmıştır?

- A) Düzenli ordunun kurulmasıyla
B) Misakımillî'nin ilanıyla
C) Meclis-i Mebusan'ın açılmasıyla
D) Cumhuriyetin ilanıyla



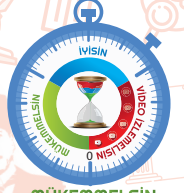
MÜKEMMELSİN

78 saniye

İVİSİN

117 saniye

VIDEO İZLEMELİSİN



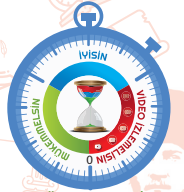
MÜKEMMELSİN

80 saniye

İVİSİN

120 saniye

VIDEO İZLEMELİSİN



MÜKEMMELSİN

88 saniye

İVİSİN

132 saniye

VIDEO İZLEMELİSİN